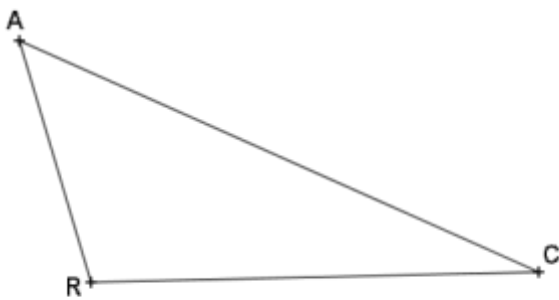
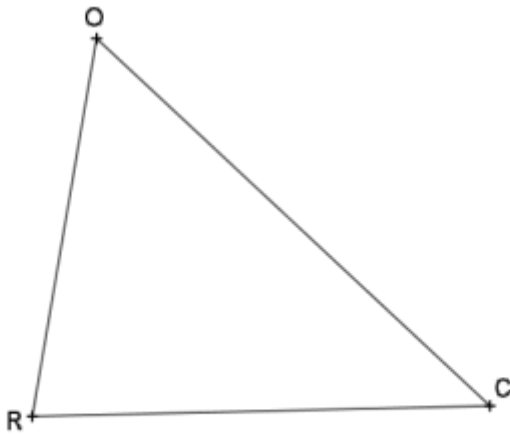
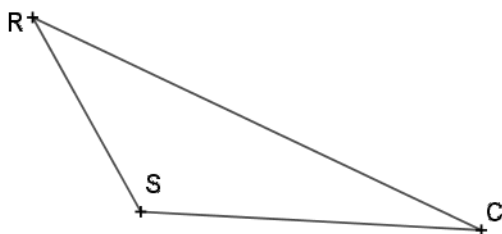
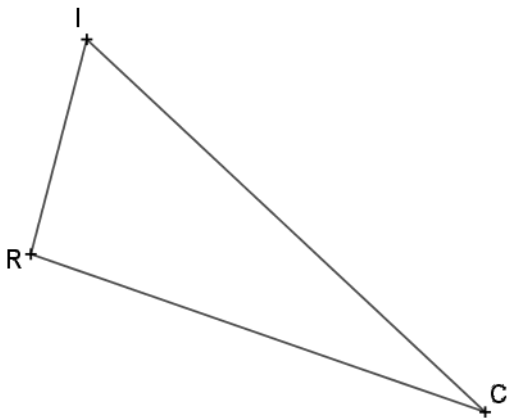


Exercice 1 : Construire le cercle circonscrit



Exercice 2 : Construire la hauteur issue de R



Exercice 3 :

On veut placer une réunion à égale distance de Paris, Berlin et Rome.

1. Construire ce point sur la carte et notez le O (ce n'est pas un point existant).
2. Tracer le cercle circonscrit au triangle formé par Paris, Rome et Berlin.



3. Y-a-t-il d'autres villes à la même distance de O que de Paris ?

.....

Exercice 4 : Le trésor se situe à égale distance de l'arbre et du rocher, à 3 cm du puits.

